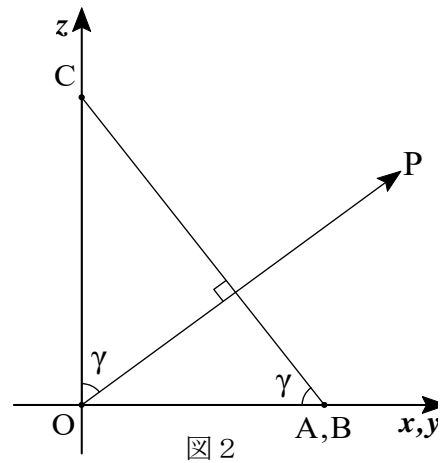
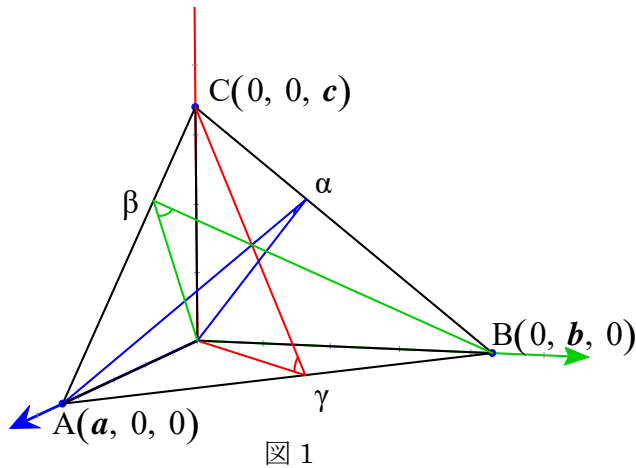


座標平面に接する円の中心の軌跡

[方向余弦]

三角形 ABC を含む平面を、平面 ABC と呼ぶことにする。このとき、平面 ABC と 3 つの座標平面 yz, zx, xy 平面とのなす角をそれぞれ α, β, γ とする。(図 1)



この平面 ABC の法線ベクトルを \overline{OP} とする。このとき、3 つの角 α, β, γ は \overline{OP} と各座標軸 x, y, z とのなす角 α, β, γ と一致する。(図 2, 3)

このとき、

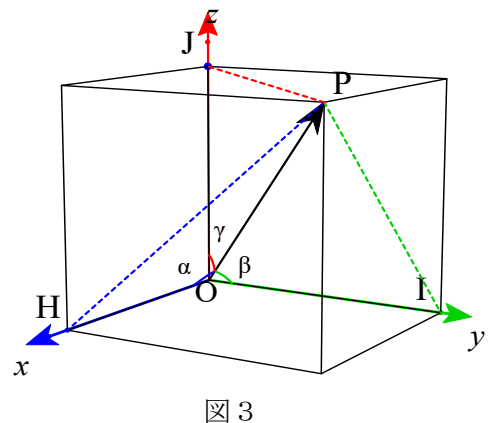
$$\cos^2 \alpha + \cos^2 \beta + \cos^2 \gamma = 1 \dots\dots\dots (*)$$

である。

[証明 1] 図 3 において、

$$OH = OP \cos \alpha, \quad OI = OP \cos \beta, \quad OJ = OP \cos \gamma$$

である。これらを、等式 $OP^2 = OH^2 + OI^2 + OJ^2$ に代入すれば、(*) を得る。 [証明終わり]



ここで、図 1 から (*) を直接計算し、再確認してみる。

[証明 2] $\overline{AB} = (-a, b, 0)$, $\overline{AC} = (-a, 0, c)$ であるから、 \overline{OP} のひとつは、

$$\overline{OP} = \overline{AB} \times \overline{AC} = (bc, ca, ab)$$

となる。 $X = e_1 = (1, 0, 0)$, $Y = e_2 = (0, 1, 0)$, $Z = e_3 = (0, 0, 1)$ とすると、

$$\cos \alpha = \frac{\overline{OP} \cdot \overline{OX}}{|\overline{OP}| |\overline{OX}|} = \frac{bc}{\sqrt{b^2c^2 + c^2a^2 + a^2b^2}}$$

$$\cos \beta = \frac{ca}{\sqrt{b^2c^2 + c^2a^2 + a^2b^2}}, \quad \cos \gamma = \frac{ab}{\sqrt{b^2c^2 + c^2a^2 + a^2b^2}}$$

したがって、(※) を得る。

[証明終わり]

[補足] $(\cos \alpha, \cos \beta, \cos \gamma)$ を \overline{OP} の方向余弦と呼ぶ。すなわち、単位ベクトルの成分のこと。

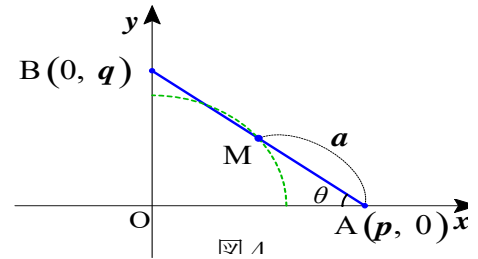
[参考事項]

長さ $2a$ の線分 AB の両端が、座標軸に接して動くとき、線分 AB の中点の描く軌跡は、

$$x^2 + y^2 = a^2$$

である。

[証明略]



[座標平面に接する円の中心の軌跡]

$$x^2 + y^2 + z^2 = 2r^2 \quad (\text{円の半径を } r \text{ とする。})$$

[証明]

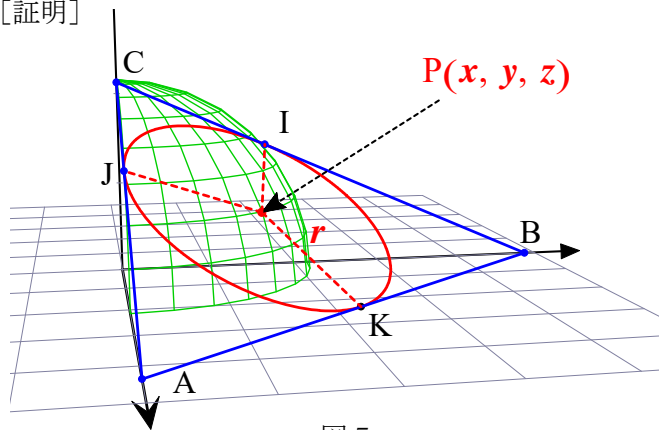


図 5

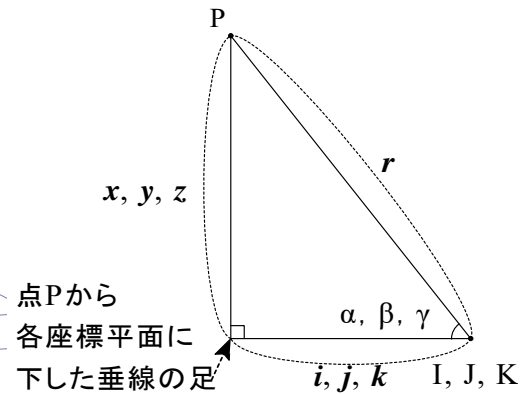


図 6

円の中心 P は $\triangle ABC$ の内心である。(図 5) 点 P から、辺 BC, CA, AB へ下した垂線の足を、それぞれ I, J, K とする。(図 6) 3つの直角三角形の性質から、

$$\cos \alpha = \frac{i}{r}, \quad \cos \beta = \frac{j}{r}, \quad \cos \gamma = \frac{k}{r}$$

$$i^2 = r^2 - x^2, \quad j^2 = r^2 - y^2, \quad k^2 = r^2 - z^2$$

これらの等式を(※)に、代入する。

$$i^2 + j^2 + k^2 = r^2$$

$$(r^2 - x^2) + (r^2 - y^2) + (r^2 - z^2) = r^2$$

$$x^2 + y^2 + z^2 = 2r^2$$

[証明終わり]